



パズル



出典:『賢くなるパズル 入門編』(宮本哲也著・学研)より

【ルール】

- ① すべてのマスに1回ずつ通って、スタートからゴールまでの道を作りなさい。
- ② 飛行機のいるマスは通れません。

パズル



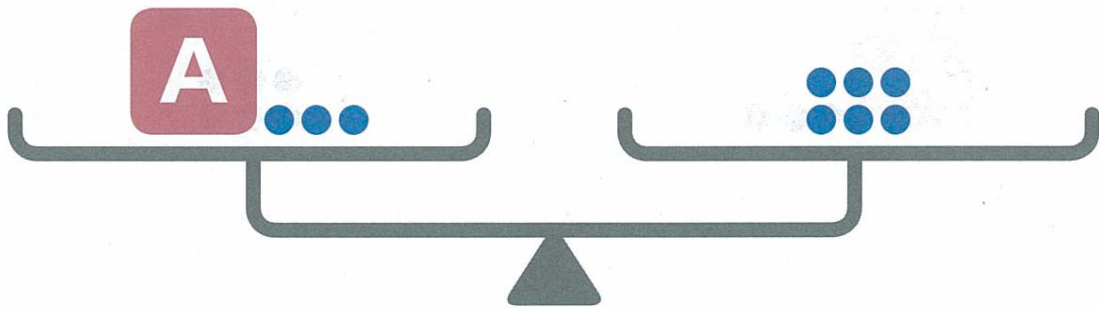
| | | | |
|---|---|---|---|
| 5 | 5 | | 4 |
| | 3 | 4 | |
| 5 | | 4 | 3 |
| | 7 | | |

出典:『賢くなるパズル たし算初級』(宮本哲也著・学研)より

【ルール】

- ① 図のマスの1～4までの数字を1つずつ入れます。
- ② どの列(たて、横とも)にも1～4の数字が1つずつ入ります。
- ③ 数字は、太線で囲まれたブロックの数の和(たしたもの)を表します。

パズル



出典:『賢くなるパズル てんびん初級』(宮本哲也著・学研)より

【ルール】

図のてんびんはつりあっていて、●1個の重さは1グラムです。

Aの重さは何グラムですか。