

2集目以降、各集(テキスト)の学習は、前の集の問題の復習から始まります。
 解き方を思い出しながら、確実に解けるようにします。
 解けなかったときには、前の集の「授業ノート」を確認するとよいでしょう。

復習テスト

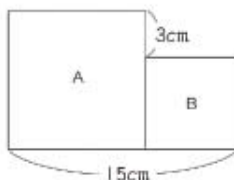
かかった時間
分
秒

【解答→6ページ】

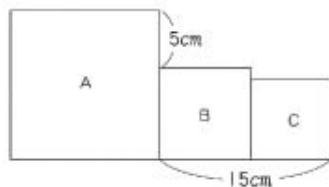
問001 AとBの和は20、AとBの差は8です。BのほうがAより大きいとき、A、Bはそれぞれいくつですか。

問002 A、B、Cの和は34、A、Bの差は3、A、Cの差は4です。BはAより大きく、CはBより大きいとき、A、B、Cはそれぞれいくつですか。

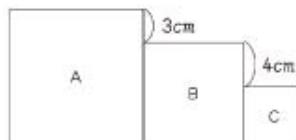
問003 右の図のA、Bは正方形です。A、Bの1辺の長さはそれぞれ何cmですか。



問004 右の図のA、B、Cは正方形で、この図全体のまわりの長さは82cmです。A、B、Cの1辺の長さはそれぞれ何cmですか。



問005 右の図のA、B、Cは正方形で、この図全体のまわりの長さは76cmです。A、B、Cの1辺の長さはそれぞれ何cmですか。



—解答らん—

名前	
----	--

問001 答 A... , B...

問002 答 A... , B... , C...

問003 答 A... cm, B... cm

問004 答 A... cm, B... cm, C... cm

問005 答 A... cm, B... cm, C... cm

復習テスト

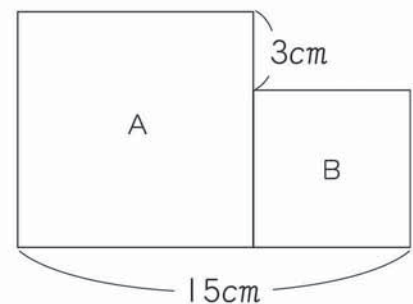
かかった時間	
分	秒

【解答⇒ 6 ページ】

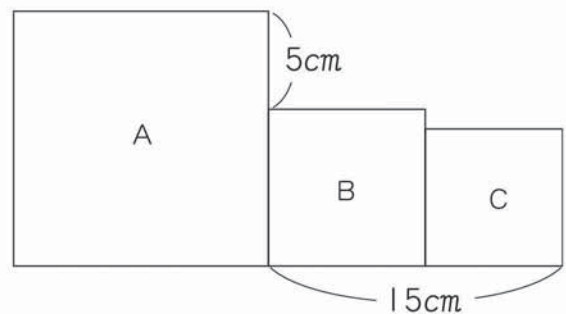
問 001 AとBの和は20, AとBの差は8です。BのほうがAより大きいとき, A, Bはそれぞれいくつですか。

問 002 A, B, Cの和は34, A, Bの差は3, A, Cの差は4です。BはAより大きく, CはBより大きいとき, A, B, Cはそれぞれいくつですか。

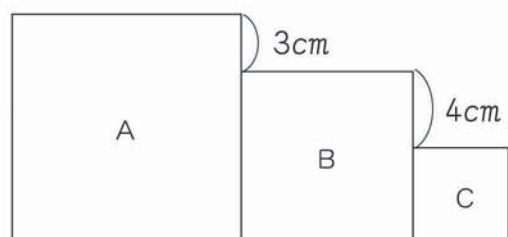
問 003 右の図のA, Bは正方形です。A, Bの1辺の長さはそれぞれ何cmですか。



問 004 右の図のA, B, Cは正方形で, この図全体のまわりの長さは82cmです。A, B, Cの1辺の長さはそれぞれ何cmですか。



問 005 右の図のA, B, Cは正方形で, この図全体のまわりの長さは76cmです。A, B, Cの1辺の長さはそれぞれ何cmですか。



— 解答らん —

名前	
----	--

問
001

答	A…	,	B…
---	----	---	----

問
002

答	A…	,	B…	,	C…
---	----	---	----	---	----

問
003

答	A…	cm	,	B…	cm
---	----	----	---	----	----

問
004

答	A…	cm	,	B…	cm	,	C…	cm
---	----	----	---	----	----	---	----	----

問
005

答	A…	cm	,	B…	cm	,	C…	cm
---	----	----	---	----	----	---	----	----