

最後にこの集(テキスト)の問題が理解できているかどうかを確認します。  
「授業ノート」を思い出せば、必ず解ける問題です。しっかりと解きましょう。

## 確認テスト

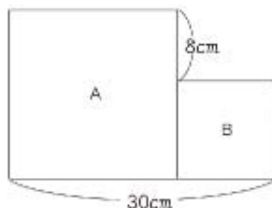
かかった時間
分 秒

【解答⇒16ページ】

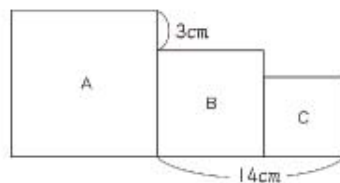
問001 AとBの和は27、差は5です。AのほうがBより大きいとき、A、Bはそれぞれいくつですか。

問002 A、B、Cの和は25、AとBの差は1、BとCの差は2です。BはAより大きく、CはBより大きいとすると、A、B、Cはそれぞれいくつですか。

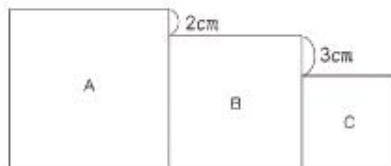
問003 右のA、Bは正方形です。A、Bの1辺の長さは、それぞれ何cmですか。



問004 右の図のA、B、Cはそれぞれ正方形で、この図全体のまわりの長さは72cmです。A、B、Cの1辺の長さはそれぞれ何cmですか。



問005 右の図のA、B、Cはそれぞれ正方形で、この図全体のまわりの長さは82cmです。A、B、Cの1辺の長さはそれぞれ何cmですか。



—解答らん—

名前	
----	--

問001 答 A… , B…

問002 答 A… , B… , C…

問003 答 A… cm, B… cm

問004 答 A… cm, B… cm, C… cm

問005 答 A… cm, B… cm, C… cm

# 確認テスト

かかった時間

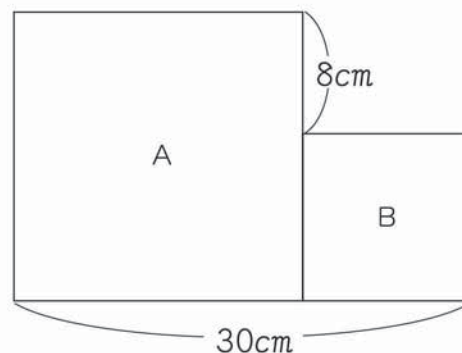
分 秒

【解答⇒ 16 ページ】

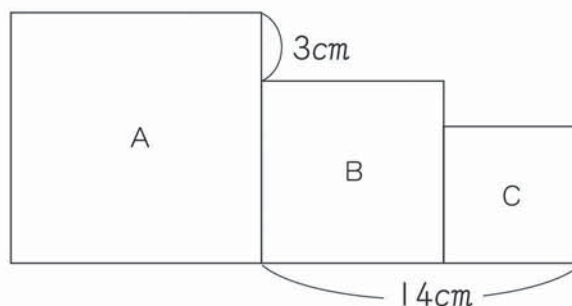
**問 001** AとBの和は27, 差は5です。AのほうがBより大きいとき, A, Bはそれぞれいくつですか。

**問 002** A, B, Cの和は25, AとBの差は1, BとCの差は2です。BはAより大きく, CはBより大きいとすると, A, B, Cはそれぞれいくつですか。

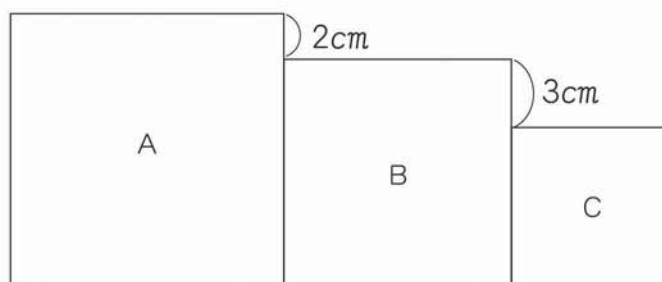
**問 003** 右のA, Bは正方形です。A, Bの1辺の長さは, それぞれ何cmですか。



**問 004** 右の図のA, B, Cはそれぞれ正方形で, この図全体のまわりの長さは72cmです。A, B, Cの1辺の長さはそれぞれ何cmですか。



**問 005** 右の図のA, B, Cはそれぞれ正方形で, この図全体のまわりの長さは82cmです。A, B, Cの1辺の長さはそれぞれ何cmですか。



— 解答らん —

名前	
----	--

問  
001

答	A… , B…
---	---------

問  
002

答	A… , B… , C…
---	--------------

問  
003

答	A… cm , B… cm
---	---------------

問  
004

答	A… cm , B… cm , C… cm
---	-----------------------

問  
005

答	A… cm , B… cm , C… cm
---	-----------------------